

Մաթեմատիկական  
խնդրագիրք  
հեղինակ  
Մուրեն Իվանյան

ՍՈՒՐԵՆ  
ԻՎԱՆՅԱՆ «ՄԵԻԹԱՐ  
ՍԵՐԱՍՏԱՑԻ»  
ԿՐԹԱՀԱՄԱՐԻԼ ԱՐԱՄՏՅԱՆ  
ԴՊՐՈՑ 3.2 ԳԱՍԱՐԱՆ

# Լուծիր Չատկական խնդիր


Մայրիկը գնեց 9 հատ ձու, իսկ տատիկը 9 անգամ ավելի: Ինչքան ձու են գնել մայրիկն ու տատիկը:

Ընտրության խումբ  
մաթեմատիկա

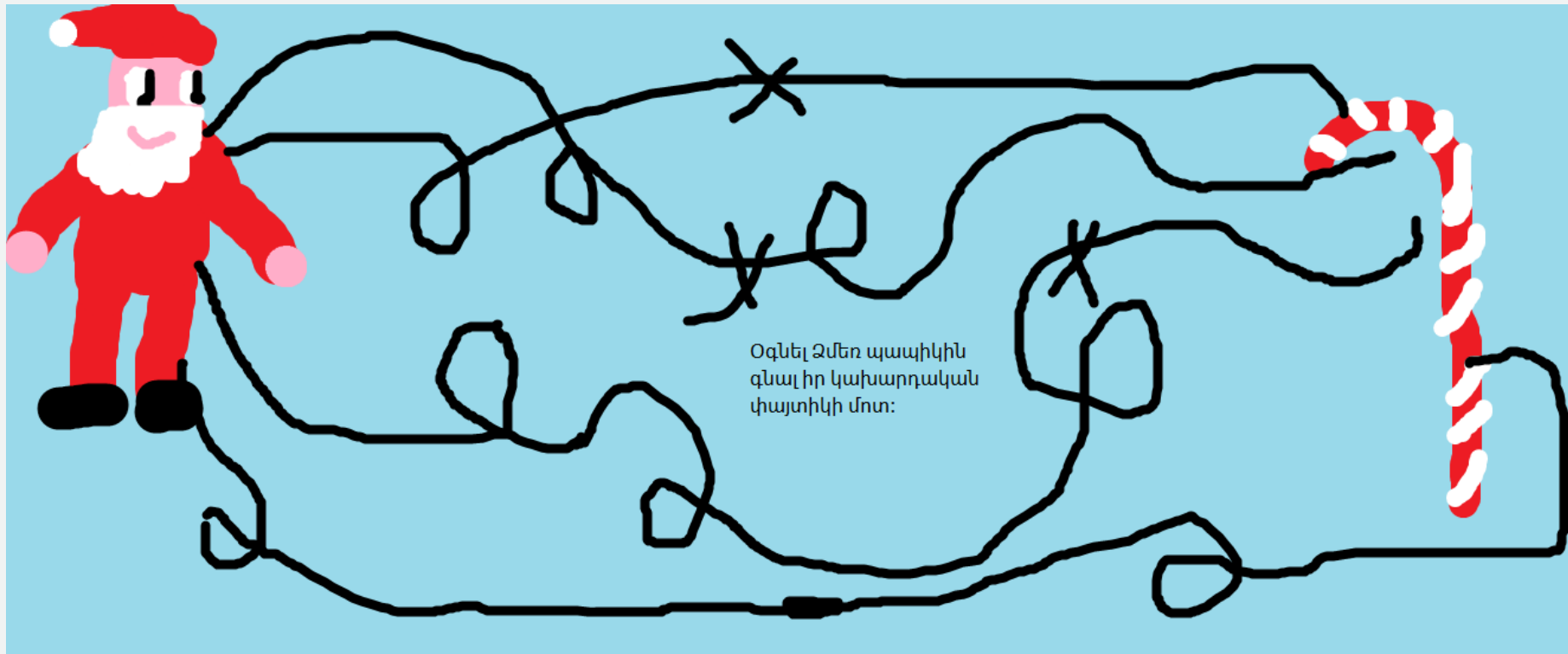
Լուծում

Պատ.

Սուրեն Իվանյան «Մխիթար Մեբաստացի»  
կրթահամարիչ Արևմտյան դպրոց 3.2 դասարան



# Օգնիր ձմեռ պապիկին հասնի նրա կախարդական փայտիկին



# Լուծիր Ամանորյա լաբիրինթոսը



# Լուծիր Իմ հորինած մաթեմատիկական խաչքառ

Սուրեն Իվանյան

Մաթեմատիկայի ընտրությամբ  
գործենության խումբ:

Իմ հորինած  
մաթեմատիկական  
խաչքառը

5	x		=	25
			:	
	:	5	=	5
			=	
1	x	5	=	

Իմ հորինած մաթեմատիկական  
խաչքառի պատասխանը

5	x	5	=	25
			:	
25	:	5	=	5
			=	
1	x	5	=	5

# Լուծիր Լաբիրինթոսը



# Լուծիր խնդիրը

$$\text{☺} + \text{☺} + \text{☺} = 30$$

$$\text{☺} + \text{☺} - \text{☹} = 25$$



$$\text{☺} + \text{☺} + \text{☹☹} = ?$$

# Լուծիր խնդիրը

8. Արամը սկզբում տոնածառից կախեց տուփի մեջ եղած խաղալիքների կեսը, հետո կախեց մնացած 17 խաղալիքը, մի խաղալիքն էլ փչացած էր, չկախեց: Սկզբում քանի՞ խաղալիք կար տուփում:

Լուծում

Պատ.՝





# Լուծիր խնդիրը

Տատիկը ուներ 96 ձու, իսկ մայրիկը 2 անգամ ավելի:Քան՞ի ձու ունեն տատիկը ու մայրիկը միասին:

Լուծում

Պատ.

